

بِسْمِ اللَّهِ الرَّحْمَنِ الرَّحِيمِ  
جامعة فلسطين



الامتحان النصفى  
الفصل الأول للعام الدراسي  
2012/2011  
الدرجة النهائية 20

اسم المحاضر: م. إيمان السويطي  
م. أيمان الشيخ خليل

رقم الطالب: \_\_\_\_\_  
اسم الطالب: \_\_\_\_\_  
الكلية: \_\_\_\_\_  
القسم / التخصص: \_\_\_\_\_  
استخدام المعجم أو القواميس ( نعم/لا)

رقم المساق: EGGC1209  
اسم المساق: الهندسة الوصفية  
تاريخ الامتحان: 2012 / 03 / 28  
عدد الأسئلة: (3- أسئلة)  
زمن الامتحان: 1.5 ساعة  
استخدام الآلة الحاسبة (نعم/لا)

## الامتحان النصفى

### أساسيات الهندسة الوصفية

<u>اسم الطالب</u>	<u>الرقم الجامعى</u>

<u>الدرجة</u>	<u>السؤال</u>
	السؤال الأول – ( 6 درجات )
	السؤال الثاني – ( 9 درجات )
	السؤال الثالث – ( 5 درجات )
	المجموع – ( 20 درجة )

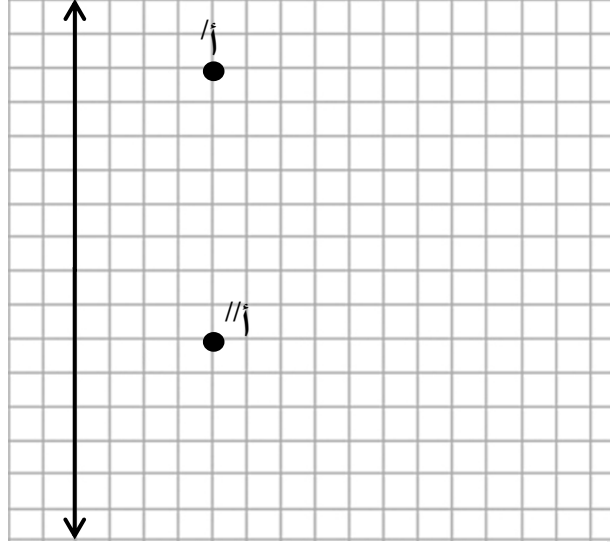



درجة السؤال (20/06)

السؤال الاول: عين مساقط الثلاثة النقاط التالية ، واكتب احداثياتها.

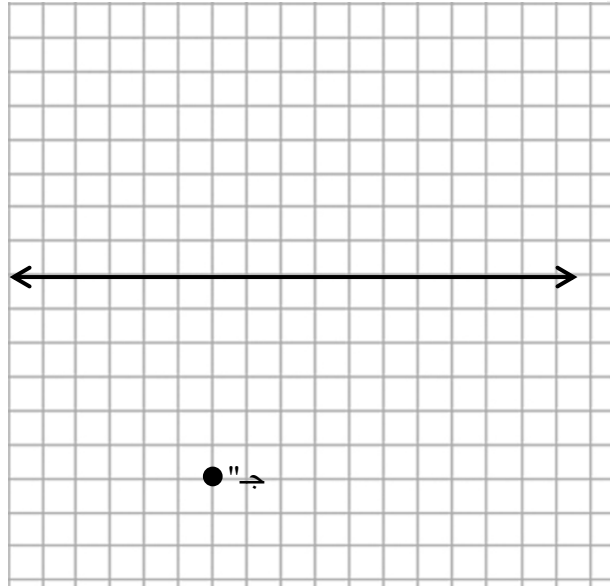
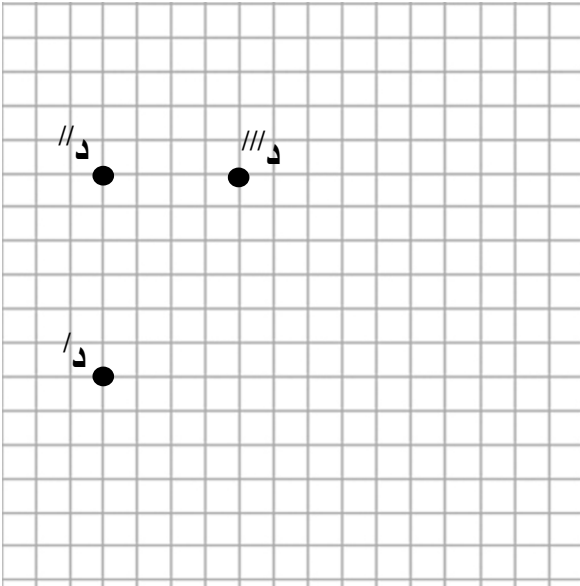
2. نقطة ب (1 ، -2 ، 3)

1. نقطة أ (.... ، .... ، 3-)



4. نقطة د (.....،.....،.....) واقعة في المستوى الأفقي

3. نقطة ج (.....،.....،.....) واقعة على المحور ع



بِسْمِ اللَّهِ الرَّحْمَنِ الرَّحِيمِ  
جامعة فلسطين



الامتحان النصفى  
الفصل الأول للعام الدراسي  
2012/2011  
الدرجة النهائية 20

اسم المحاضر: م. إيمان السويطي  
م. أيمان الشيخ خليل

رقم الطالب: \_\_\_\_\_  
اسم الطالب: \_\_\_\_\_  
الكلية: \_\_\_\_\_  
القسم / التخصص: \_\_\_\_\_  
استخدام المعجم أو القواميس ( نعم/لا)

رقم المساق: EGGC1209  
اسم المساق: الهندسة الوصفية  
تاريخ الامتحان: 2012 / 03 / 28  
عدد الأسئلة: (3- أسئلة)  
زمن الامتحان: 1.5 ساعة  
استخدام الآلة الحاسبة (نعم/لا)

درجة السؤال (20/09)

عدد الفروع (2)

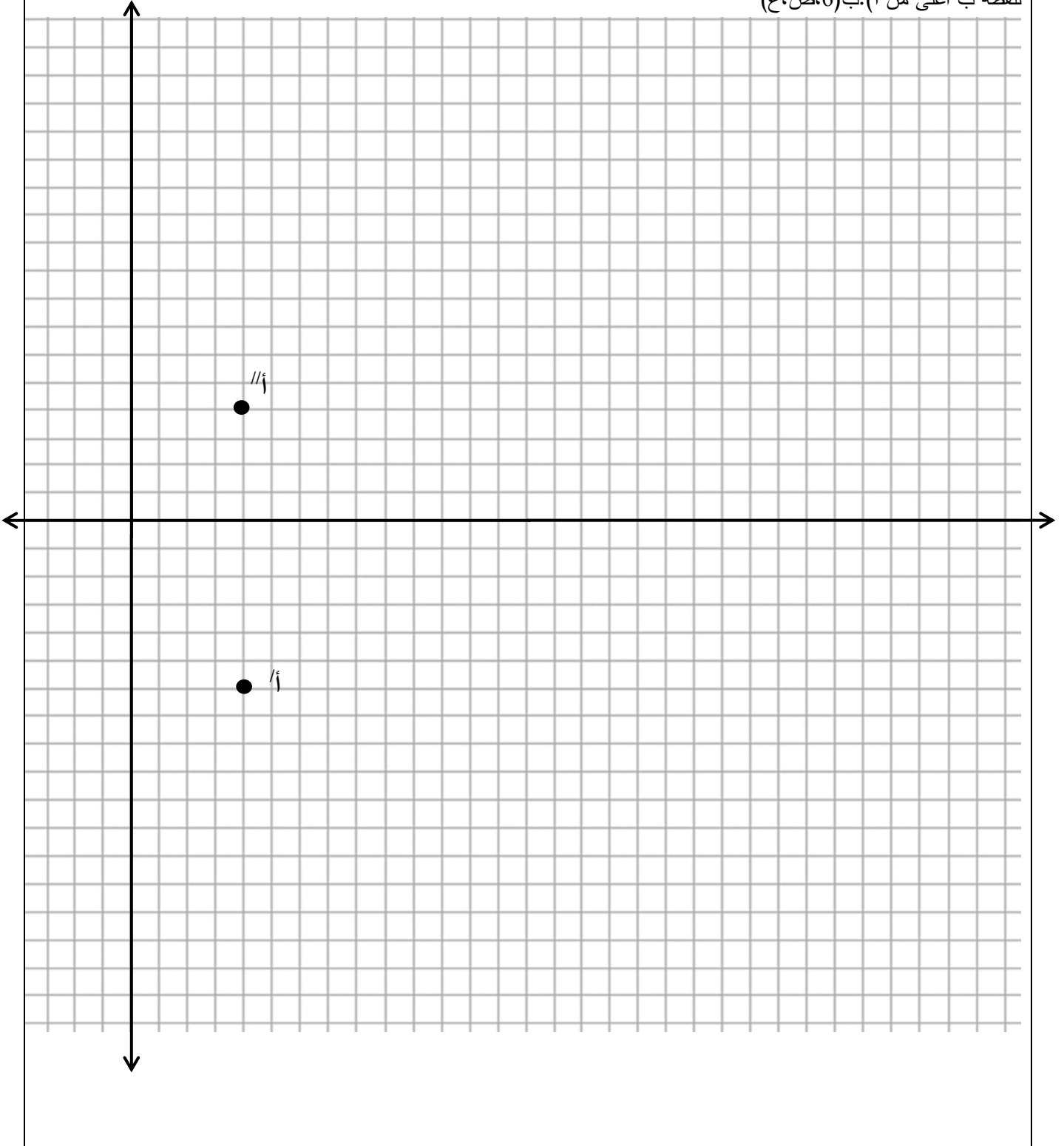
السؤال الثاني:

1. مثل مسطوي المستقيم أب [ أ(1،3،3)، ب(-5،-3،5) ]، ثم عين أثري المستقيم والزوايا التي يخرقها في الفراغ، ثم عين مسطوي النقط الواقعة عليه ج(س،0،ع)، د(س،ص،0)، هـ(0،ص،ع). م(س،ص،4.5). ثم أوجد الطول الحقيقي وزاوية ميله على الراسي.



2. مثل مسطوي المستقيم أب ، إذا كان طول المستقيم 7 سم، ويميل بزاوية 30 على المستوى الرأسى. ( مع العلم بان الإحداثيات العينية

لنقطة ب أعلى من أ). ب.(6،ص،ع)



بِسْمِ اللَّهِ الرَّحْمَنِ الرَّحِيمِ

جامعة فلسطين



الامتحان النصفى  
الفصل الأول للعام الدراسى

2012/2011

الدرجة النهائية 20

رقم المساق: EGGC1209

اسم المساق: الهندسة الوصفية

تاريخ الامتحان: 2012 / 03 / 28

عدد الأسئلة: (3- أسئلة)

زمن الامتحان: 1.5 ساعة

استخدام الآلة الحاسبة (نعم/لا)

اسم المحاضر: م. إيمان السويطى  
م. أيمان الشيخ خليل

رقم الطالب: \_\_\_\_\_

اسم الطالب: \_\_\_\_\_

الكلية: \_\_\_\_\_

القسم / التخصص: \_\_\_\_\_

استخدام المعجم أو القواميس ( نعم/لا)

درجة السؤال (20/05)

عدد الفروع (1)

السؤال الثالث

عين مسطوي المربع أب ج د حيث أ(3،1) ، ب(2،4) والضلع أد وجهي.

تمنياتنا لكم بالتوفيق